



معهد سمارة مايند
SMART MIND INSTITUTE

مذكرة ليلة الاختبار الإجتماعيات



9

الفصل الدراسي الأول 2024-2025



Download on the
App Store

GET IT ON
Google Play

جميع الدروس متوفرة بالكامل في مكتبة الفيديوهات على تطبيق سبيديا



وزارة التربية
الإدارة العامة لمنطقة العاصمة التعليمية
التوجيه الفني للاجتماعيات

العام الدراسي : ٢٠٢٣ / ٢٠٢٤ م
الزمن : (ساعة وخمس وأربعون دقيقة)
عدد الأوراق : (٦)

امتحان نهاية الفترة الدراسية الأولى
لمقرر الكويت والعالم - للصف التاسع

السؤال الأول (موضوعي) يتكون من (أ - ب - ج - د - هـ) :

(أ) أكمل العبارات التالية بما يناسبها فيما درست : (٧ × ١ = ٧ درجات)

- ١- منظمة الدول المصدرة للنفط تسمى..... **أ. أوبك**
- ٢- الغاز الرئيسي المسبب للاحتباس الحراري الميثان وغاز يسمى **ثاني أكسيد الكربون** هنا
- ٣- خط الأساس لخطوط الطول يسمى **جريدته**
- ٤- وحدة قياس ضغط الصوت تسمى **الديسيبل**
- ٥- أحد أنواع التلوث من أضراره الشعور بالإرهاق والتعب وعدم القدرة على بذل مجهود كبير يسمى **تلوث الهواء**
- ٦- كل مرتفع من الأرض وله قمة لا يقل ارتفاعها عن ١٠٠٠ متر يسمى **الجبل**
- ٧- منظمة الأمم المتحدة للتربية والعلوم والثقافة تسمى **اليونسكو**

(ب) صوب ما تحته خط في العبارات التالية : (٧ × ١ = ٧ درجات)

م	العبارة	التصويب
١	الاعتناء بالحيوانات الداجنة وتوليدها يسمى <u>الجمع والانتقاط</u> .	استئناس الحيوانات
٢	تبلغ نسبة الهضاب من مساحة القارات <u>٣٥٪</u> .	٢٣٪
٣	أول رياضي عربي تسلق قمة إفرست اسمه <u>عبدالرحمن السميث</u> .	هو
٤	كافة التفاعلات الدولية وحركات الشعوب وتبادل السلع والأفكار تسمى <u>السياسة الدولية</u> .	العلاقات الدولية
٥	تقع دولة الكويت بالنسبة للخليج العربي في جهة <u>الجنوب الغربي</u> .	الشمالي الغربي
٦	العلاقة بين أضلاع مثلث الحياة (الإنسان - البيئة - الموارد الطبيعية) علاقة <u>عكسية</u> .	تبادلية / اعتمدية
٧	المرحلة التي بدأ فيها الإنسان باستخدام قدراته الخلقية والعقلية في دراسة حركات الحيوانات اليومية والموسمية تسمى <u>التصنيع</u> .	الصيد والقتل

تابع السؤال الأول (موضوعي) :

(ج) ضع خطأ تحت الخيار الصحيح من بين الخيارات التي تلي كل عبارة: (٧ × ١ = ٧ درجات)

٢٥ ١- الأقاليم المناخية الواقعة بين دائرتي عرض ٣٠° - ٤٠° شمالاً وجنوباً :

الباردة	المعتدلة الباردة	المعتدلة الدفيئة	الحارة
---------	------------------	------------------	--------

٢- مصدر من المصادر الميكانيكية لتلوث التربة :

الأسمدة الكيماوية	آفات زراعية	المبيدات الحشرية	الرعي الجائر
-------------------	-------------	------------------	--------------

٣- إرسال حكومة الكويت لرسائل التهنئة والتعزية للدول المختلفة شكل من أشكال العلاقات :

الثقافية	الاقتصادية	الاجتماعية	السياسية
----------	------------	------------	----------

٤- أحد المشكلات التي تواجهها الدول المتقدمة :

البطالة	عدم توفر رأس المال	ندرة الموارد النفطية	قلة الأيدي العاملة
---------	--------------------	----------------------	--------------------

٥- أحد مصادر المياه التقليدية : ٧٧

تحلية مياه البحر	الأمطار الصناعية	المياه الجوفية	معالجة مياه الصرف
------------------	------------------	----------------	-------------------

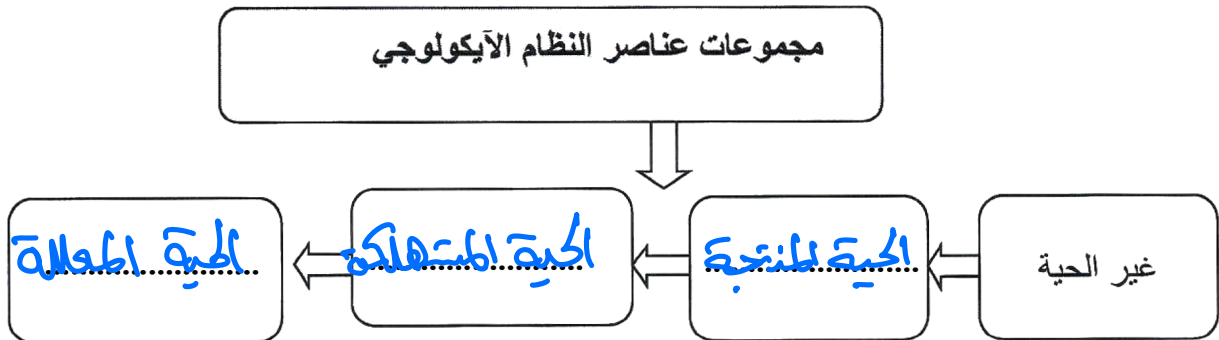
٦- مساعدات تتمثل في تقديم الدعم المباشر للمشروعات الوطنية بالاستعانة بالجهات الخارجية من أجل تطوير وتحسين خدمات الدولة :

فنية	طارئة	اقتصادية	مالية
------	-------	----------	-------

٧- عقد المؤتمر الدولي للأرض في مدينة (ريودي جانيرو) في البرازيل عام : ١٩٩٢

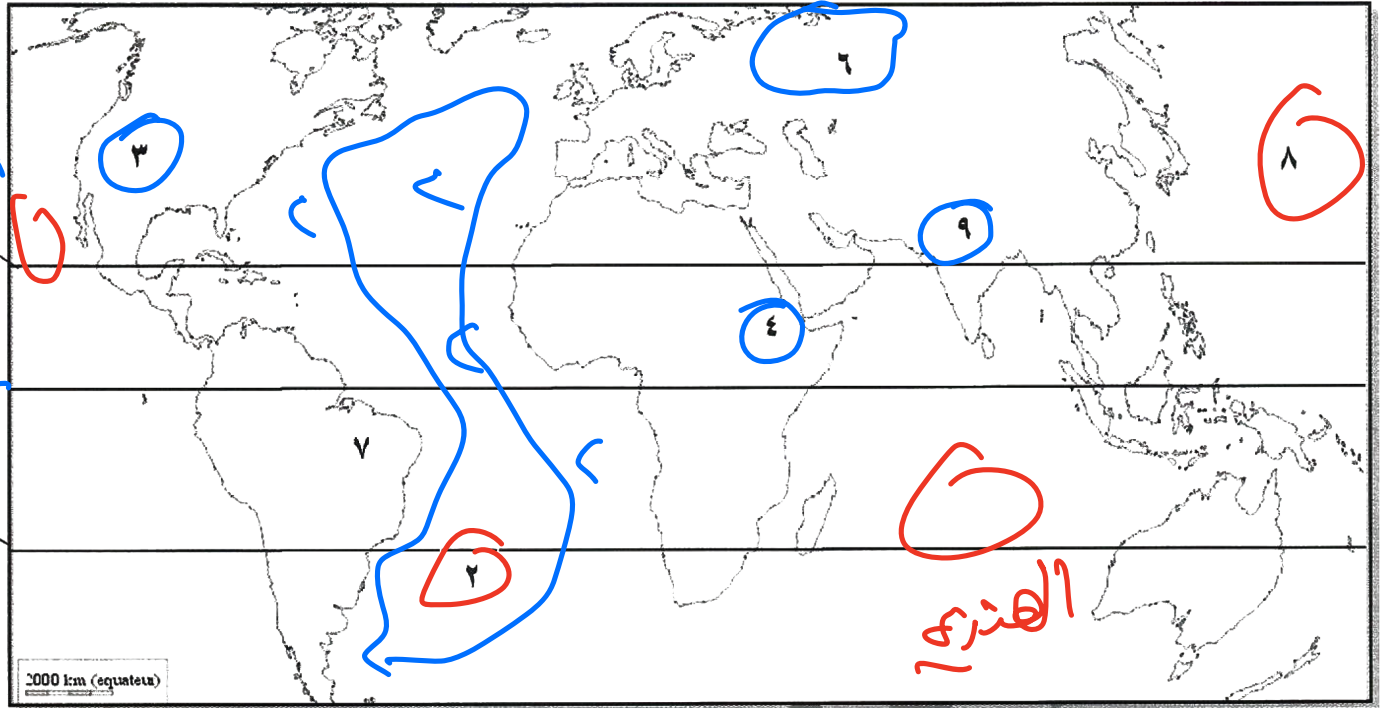
١٩٩١م	١٩٩٢م	١٩٩٣م	١٩٩٤م
-------	-------	-------	-------

(د) أكمل المخطط السهمي التالي : (٣ × ١ = ٣ درجات)



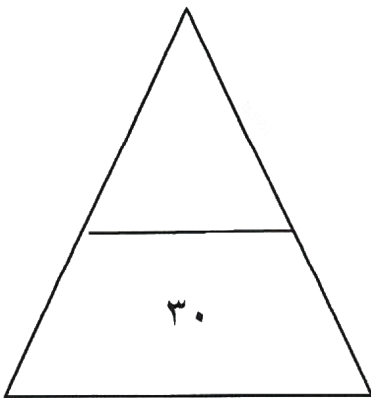
تابع السؤال الأول (موضوعي) :

(هـ) أمامك خريطة العالم الصماء اكتب مدلولات الأرقام الدالة على العبارات التالية: (٦ × ١ = ٦ درجات)



- (٦) - سهول سيبيريا تحمل الرقم
- (٢) - مدار الجدي يحمل الرقم
- (٤) - هضبة أثيوبيا تحمل الرقم
- (٣) - المحيط الأطلنطي يحمل الرقم
- (٩) - جبال الهماليا تحمل الرقم
- (٣) - جبال الروكي تحمل الرقم

← اة طلسي



مجموع درجات السؤال الأول بالحروف :

السؤال الثاني (مقالى) يتكون من (أ - ب - ج) :

(أ) عرف ما يلى : (درجتان لكل نقطة درجة)

- ١- الاقتصاد البيئي : التوزيع الآمن للموارد الطبيعية التي توفرها البيئة لأية التنمية
٢- التضاريس : الملامح الرئيسية لشكل سطح الأرض

(ب) فرق بين كل مما يلى :

مفهوم البيئة النامية حضارياً	مفهوم البيئة الحضارية المتقدمة
يكون فيها الإنسان صاحب قدرات علمية محدودة. من استغلال الموارد (درجة)	يملك فيها الإنسان قدرات علمية وتكنولوجية كبيرة. تمكنه من استغلال الموارد (درجة)
أسباب الاحتباس الحراري غير طبيعية (البشرية)	أسباب الاحتباس الحراري الطبيعية
* إزالة الغابات * استغلال الوقود الأحفوري	التي التغيرات التي تحدث لها الأرض حول استحص الانحطاطات البركانية
(درجة - ويكتفى بنقطة)	(درجة - ويكتفى بنقطة)

(ج) أجب عما يلى :

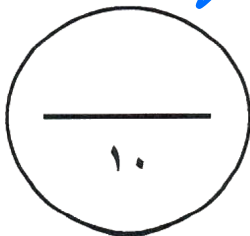
١- دلل على صحة العبارة : (للتلوث الضوضائي أضرار عديدة) . (درجتان)

لدى

ضعف السمع / الإصابة بالدمع
ارتفاع ضغط الدم الشعور بالأصباح وطنين بالأذن

٢- علل - نشأة الحركة التجارية الدولية . (درجتان)

* حاجة الدول المنتجة لأسواق لتصريف منتجاتها
* حاجة الدول المستهلكة لاستيراد السلع والخدمات وموارد الخام التي لا تتوفر في أراضيها



مجموع درجات السؤال الثاني بالحروف :

السؤال الثالث (مقال) ويتكون من (أ - ب - ج) :

(أ) اقرأ الفقرة التالية ثم أجب عما يليها من أسئلة :

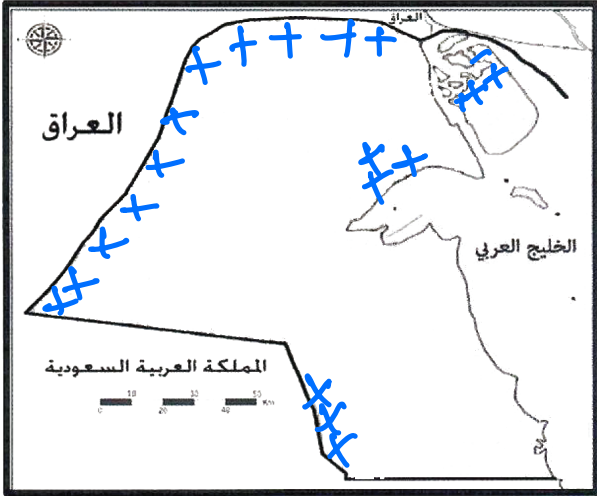
" تُعد مشكلة التصحر من الظواهر المهمة ، وأصبحت آثارها السلبية لا تقتصر على منطقة محددة ، دائماً تشكل مساحة كبيرة وفي معظم القارات ولا سيما في قارة أفريقيا مما أدى إلى قلة إنتاج المحاصيل ، والذي ينعكس على تغذية الإنسان والحيوان فالتصحر هو تناقص في قدرة الإنتاج البيولوجي للأرض أو تدهور خصوبة الأراضي المنتجة ، وله عدة أسباب منها الطبيعية كقلة الأمطار وتعرية التربة وزحف الكثبان الرملية وأخرى بشرية كالرعي الجائر والري غير المتقن " .

(درجة - ويكتفى بنقطة)

١- عرف ما تحته خط .

التصحر :

٢- استخرج من الفقرة الأسباب الطبيعية لمشكلة التصحر. (درجتان - لكل نقطة درجة - يكتفى بنقطتين)



قلة الأمطار وتعرية التربة

زحف الكثبان الرملية

٣- أمامك خريطة دولة الكويت الصماء ، حدد عليها المحميات الطبيعية في دولة الكويت باستخدام الرمز ++++

(- درجة)

٧٤

(ب) اذكر نقطتين لكل مما يلي :

١- أدوات تنفيذ السياسة الخارجية . (درجتان لكل نقطة درجة)

* الدبلوماسية - المعونات الخارجية

* استخراج القوة السياسية - المقاطعة الاقتصادية

٢- أسباب ندرة المياه بدول مجلس التعاون الخليجية . (درجتان - لكل نقطة درجة)

النمو السكاني | التوسع العمراني | الموقع الجغرافي | المناخ | مصادر المياه

(ج) عرف ما يلي : (درجتان - لكل تعريف درجة)

١- نظام GPS : نظام تحديد المواقع العالمي مع الأقمار الصناعية

٢- البيئة : الأثر الذي يحدث عند الإنسان ويحصل على مقومات

حياته ويتفاعل مع عناصر بيئته الطبيعية



مجموع درجات السؤال الثالث بالحروف

السؤال الرابع (مقالى) ويتكون من (أ - ب - ج) :

(أ) دال على صحة العبارات التالية :

(درجة - ويكتفى بنقطه)

صحة

١- السهول أفضل مناطق للاستقرار البشري .

تعتبر موجات طبيعية / حولة بنوار المسكن / مركزالكان لحولة التنقل

(درجة - ويكتفى بنقطه)

٦٨

٢- التربة هي الأساس للمستقبل المستدام لكوكب الأرض.

التربة اللحية هي مصدر غذاء العالم

التربة مثل النخل من الكوارر المحصورة

(ب) عدد المطلوب لكل مما يلي :

(درجتان - لكل نقطة درجة - ويكتفى بنقطتين)

١- عناصر المناخ .

الضغط الجوي

الهوايا

الأمطار

درجة الحرارة

الرطوبة

(درجتان - لكل نقطة درجة - ويكتفى بنقطتين)

٢- العوامل المؤثرة على العلاقات السياسية بين الدول .

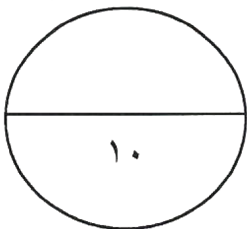
عوامل جغرافية / عوامل داخلية / عوامل خارجية

بيئية / اقتصادية / عسكرية

(ج) فرق بين كل مما يلي من حيث (التعريف) :

ندرة المياه المعنوية	ندرة المياه المادية ٧٦
تتمثل في استنزاف البلاد للموارد المائية ولان تقع اعلم اشكاله (درجة) الأباردة	تتمثل في عجز الموارد عن تلبية كمية طلبات السكان (درجة)
الموقع النسبي	الموقع الفلكي
موقع الدولة بالنسبة للبحر (درجة) والماء	هو موقع الدولة بالنسبة لخطوط العرض ووازار العرض (درجة)

مجموع درجات السؤال الرابع بالحروف



انتهت الأسئلة



العام الدراسي : ٢٠٢٣ / ٢٠٢٤ م

امتحان نهاية الفترة الدراسية الأولى

الزمن : ساعة و ٤٥ دقيقة

مقرر / الكويت والعالم

وزارة التربية

عدد الصفحات : (٦)

الصف التاسع

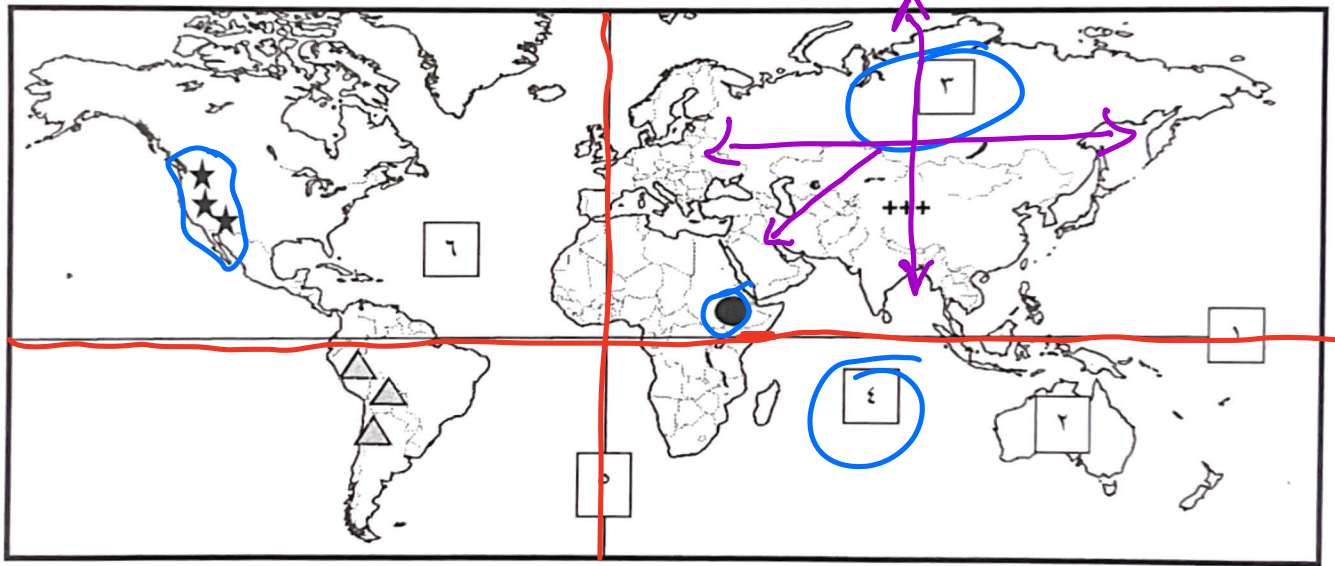
الإدارة العامة لمنطقة مبارك الكبير التعليمية

التوجيه الفني للاجتماعيات

أجب على جميع الأسئلة التالية

السؤال الأول : (الموضوعي) ويتكون من (أ - ب - ج - د - هـ - و) : (لكل سؤال درجة = ٣٠ درجة)

(أ) لاحظ خريطة العالم الصماء ثم اكتب الرقم أو الرمز الدال على العبارات التالية :



- * خط غرينتش يمثل على الخريطة الرقم (٥)
- * المحيط الهندي يمثل على الخريطة الرقم (٤)
- * قارة آسيا يمثلها على الخريطة الرقم (٣)
- * جبال الروكي يمثلها على الخريطة الرمز (٨)
- * هضبة أثيوبيا يمثلها على الخريطة الرمز (١٠)

تابع / السؤال الأول (الموضوعي) :

(ب) أكمل العبارات التالية بما يناسبها :

- ١- تقع دولة الكويت بالنسبة لقارة آسيا في الجهة **جنوب غرب**
- ٢- العام الذي عقد فيه المؤتمر الدولي للأرض في مدينة ريو دي جانيرو بالبرازيل **١٩٩٢**
- ٣- أول رياضي عربي تسلق أعلى قمة في العالم (افرست) اسمه **زيد السيد الرفاعي**
- ٤- المنظمة التي تهدف إلى رفع مستوى التعاون بين دول العالم في مجال التربية والتعليم والثقافة تسمى **اليونسكو**
- ٥- تبلغ نسبة البحار والمحيطات من المساحة الكلية لسطح الكرة الأرضية حوالي **٧١٪**

(ج) صنف عناصر النظام الايكولوجي حسب مكانها الصحيح في الجدول التالي :

(الماء - البكتيريا - الهواء - التربة - الفطريات)

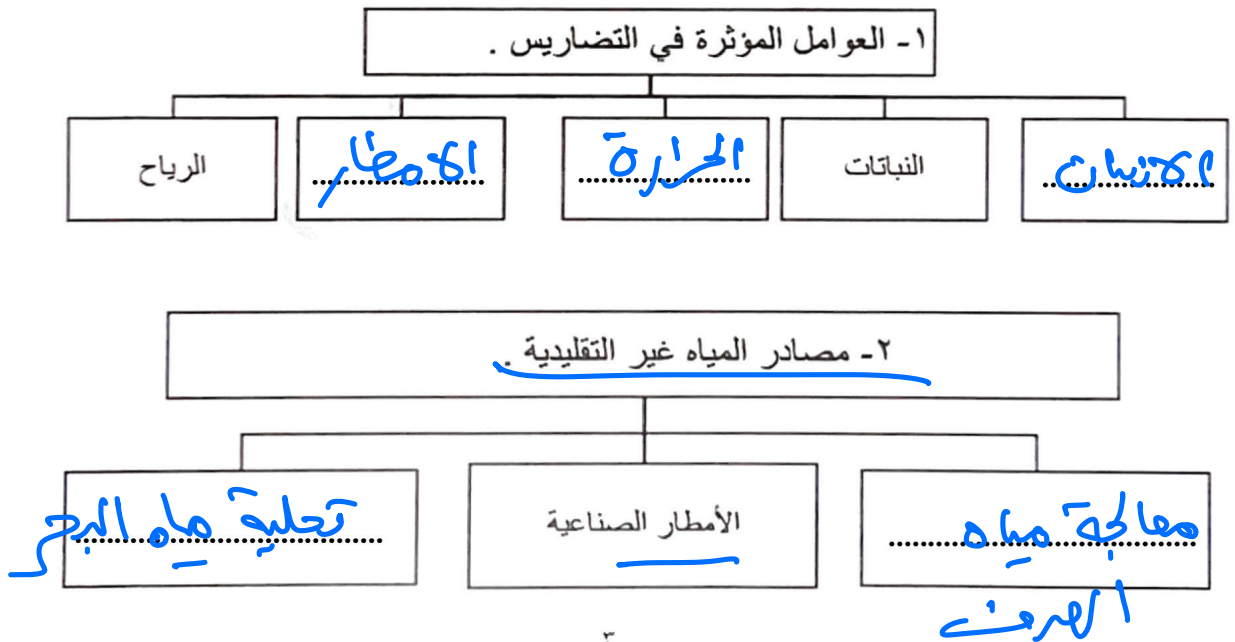
العناصر غير الحية	العناصر الحية المحللة (المفككة)
الماء هواء تربة	بكتيريا فطريات

تابع / السؤال الأول (الموضوعي) :

(د) أكتب المفاهيم أو المصطلحات الدالة على العبارات التالية :

م	المفهوم أو المصطلح	العبارة
١	التوازن البيئي	التفاعل المستمر بين مكونات البيئة الذي يحفظ استقرارها النسبي في زمن محدد دون أن يؤثر أي مكون على المكونات الأخرى .
٢	التعرية	عملية نحت وتشكيل سطح الأرض ونقل المفتتات الصخرية وإرسابها في مكان آخر من خلال الرياح والمياه الجارية والجليد والأمواج والمياه الجوفية .
٣	التلوث البيئي	أي تغير غير مرغوب فيه في الخواص الطبيعية أو الكيميائية أو البيولوجية للبيئة المحيطة والذي قد يتسبب في إضرار الحياة و الكائنات الأخرى .
٤	التدهور	تناقص في قدرة الإنتاج البيولوجي للأرض أو تدهور خصوبة الأراضي المنتجة بالمعدل الذي يكسبها ظروف تشبه الأحوال المناخية الصحراوية .
٥	نظام GPS	نظام تحديد المواقع العالمي مبني على الأقمار الصناعية .


(هـ) أكمل المخططات السهمية التالية :




تابع / السؤال الأول (الموضوعي) :

(و) أكتب مدلولات الصور والأشكال التالية :

٢٥ ح



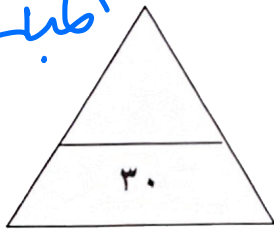
الدور ٢ من التنمية
المستمرة القضاء على الجوع




عالم الفيزياء
ديفيد



فعلية التعاون الدول
التفاهج العربية (العلاقات
الدولية
اطبائى



الوكالة اليابانية للتعاون
الدولي (جايكا)



٤ / ما هي اليوم
الدولي للفتيات

السؤال الثاني : (مقال) ويتكون من (أ - ب - ج) :

(أ) اقرأ الفقرة التالية ثم أجب عما يليها من أسئلة :

((أدى تطوير وسائل الاتصال والمواصلات إلى المساهمة في تقليص المسافات بين الدول والمجتمعات والأفراد حيث ساعدت على نشأة العلاقات الاقتصادية الدولية والتي بدورها أدت إلى الانفتاح العالمي على التجارة الدولية وتبادل السلع والخدمات وانسياب رؤوس الأموال)) .

١- عرف ما تحته خط . (درجة واحدة)

٢- فرق بين كل من . (٤ درجات)

عيوب التجارة الدولية	مميزات التجارة الدولية
ارتفاع تكاليف النقل والتخزين	المساهمة في دعم النمو الاقتصادي
اختلاف العملات يؤدي لعسرة التعامل مع البائع	استغلال الموارد العالمية

(ب) عدد ثلاث لكل مما يلي :

١- مصادر التلوث الضوضائي . (٣ درجات -)

آلات المصانع / جميع أعمال البناء وتشجير
وسائل النقل / اصوات الآلات منزلية

٢- مميزات البيئة الطبيعية . (٣ درجات -)

التوازن البيئي / العلاقات المتبادلة بين عناصر البيئة الطبيعية

(ج) علل لما يلي :

١- أهمية زراعة الأشجار على كوكب الأرض . (٣ درجات)

الحفاظ على المناخ وتخصيبه برياح الحرارة
توفر المياه / تحففت من سرعة الرياح

٢- يعتبر التلوث المائي من أشد أنواع التلوث خطرا . (درجة واحدة)

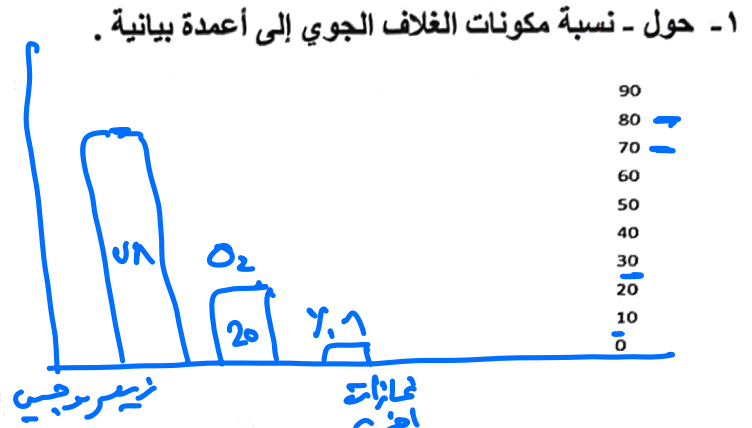
قلة نسبة المياه العذبة حيث لا تتعدى

٢٪ + ارتفاع نسبة المياه المالحة ٩٨٪

السؤال الثالث : (مقال) ويتكون من (أ - ب - ج) :

(أ) لاحظ الجدول المقابل ثم أجب عن الأسئلة التالية :

النسبة	مكونات الغلاف الجوي
%٧٨	النيتروجين
%٢١	أكسجين
%١	غازات أخرى



٢- عرف - التلوث الهوائي . (درجة)

هو حدوث أي تغير غير طبيعي في تركيب الهواء سواء عن طريق غازات أو أرقعة أو رماد

٣- عدد - مصادر تلوث الهواء . (درجتان)

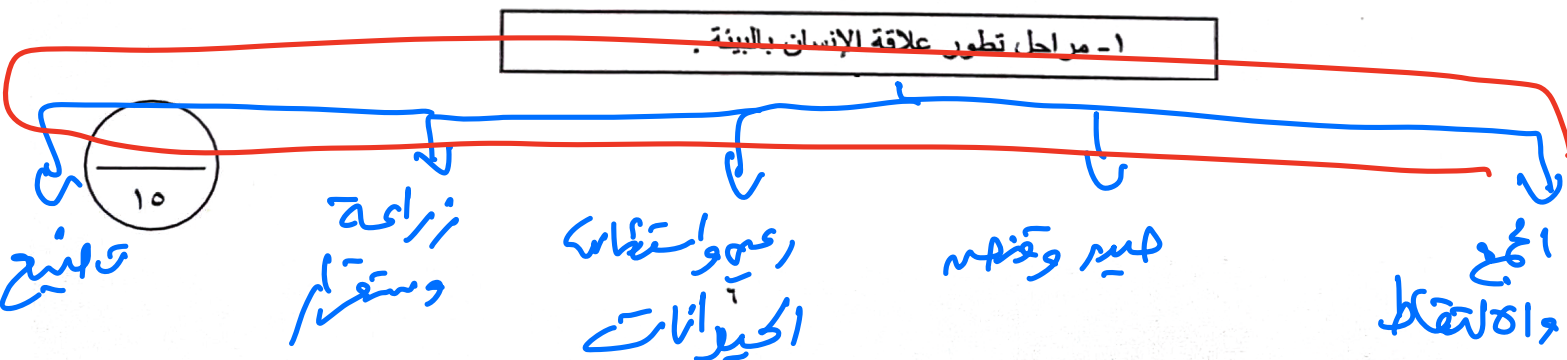
غازات منبثقة وسائل المصانع / شرارة رماد وانفجارات
حرق النفايات

(ب) فرّق بين أسباب الاحتباس الحراري الطبيعية والبشرية : (٥ درجات)

الأسباب الطبيعية	الأسباب البشرية
تغيرات في معدل الجوارح حول الشمس	إزالة الغابات
الانفجارات البركانية	استعمال الوقود الأحفوري

(ج) ارسم مخططاً سهمياً يمثل مراحل تطور علاقة الإنسان بالبيئة . (٥ درجات)

(درجة لرسم المخطط السهمي و ٤ درجات للمراحل)





وزارة التربية

الإدارة العامة لمنطقة حولي التعليمية

التوجيه الفني للاجتماعيات

العام الدراسي: ٢٠٢٣/٢٠٢٤ م

الزمن: ساعة و ٤٥ دقيقة

عدد الصفحات: (٥)

امتحان نهاية الفترة الدراسية الأولى

مقرر/ دولة الكويت والعالم

للمصف التاسع

السؤال الأول الموضوعي يتكون من (أ - ب - ج - د - هـ) : (٣٠ درجة لكل نقطة درجة واحدة)

(أ) ظلل الخيار الصحيح من بين الخيارات التي تلي كل عبارة :

١- الموقع المكاني لدولة الكويت بالنسبة لقارة آسيا في الجهة :

الجنوبية الغربية	الجنوبية الشرقية	الشمالية الغربية	الشمالية الشرقية
------------------	------------------	------------------	------------------


٢- بيئة حضارية يمتلك فيها الانسان قدرات علمية وتكنولوجية كبيرة تمكنه من استغلال مواردها :

متقدمة	متوسطة	متذبذبة	نامية
--------	--------	---------	-------

٣- العام الذي تعرضت فيه الآبار النفطية عند تحرير دولة الكويت لعمليات التفجير :

١٩٩٠م	١٩٩١م	١٩٩٢م	١٩٩٣م
-------	-------	-------	-------


٤- شعار منظمة الأغذية والزراعة التابعة للأمم المتحدة :



٥- أكبر الدول المانحة للدول النامية في العالم :

اليابان	ماليزيا	كوريا	الصين
---------	---------	-------	-------

٦- الدائرة البيانية المقابلة تمثل نسبة استخدام أحد مصادر المياه العذبة المنتجة في دول مجلس التعاون من جملة المياه :

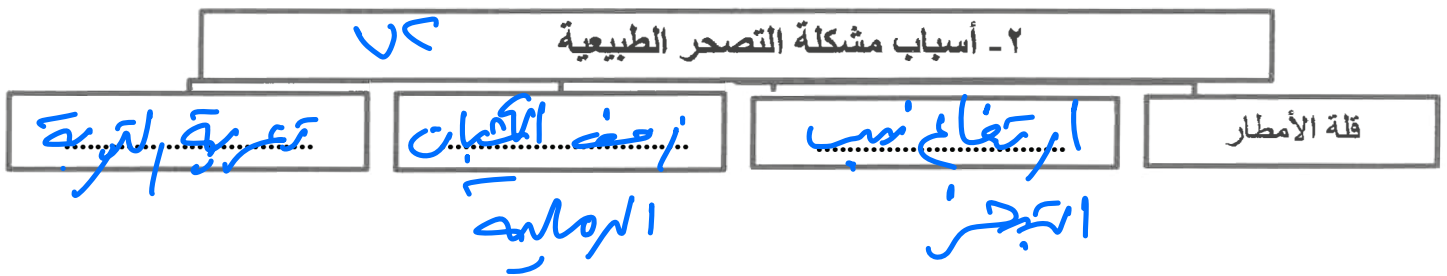
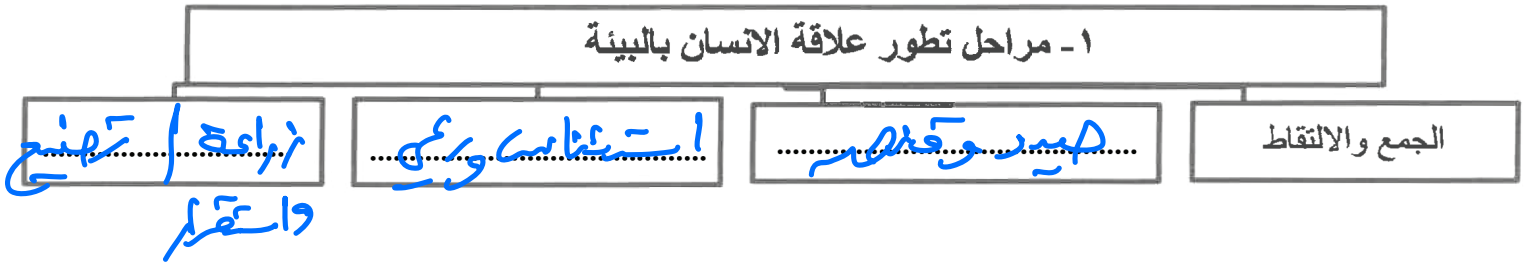


التحلية	الصرف الصحي
السدود	الجوفية

U A M

تابع : السؤال الأول :

(ب) اكمل المخططات السهمية التالية :



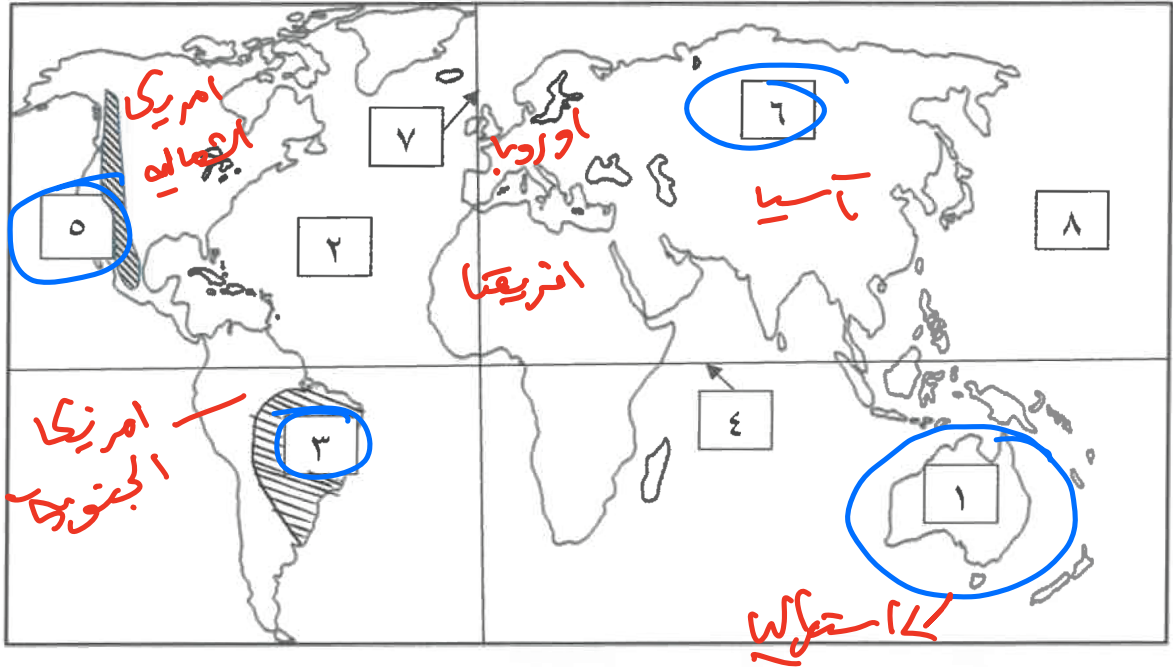
(ج) صنف المكونات التالية حسب النظام الأيكولوجي التابعة له بالجدول التالي :

الانسان - الغازات - البكتيريا - الحيوان - الفطريات - الصخور

العناصر غير الحية	العناصر الحية المستهلكة	العناصر الحية المحللة (المفككة)
الغازات	الانسان	فطريات
الصخور	الحيوان	بكتيريا

تابع : السؤال الأول :

(د) أمامك خريطة العالم الصماء ، اكتب الأرقام الدالة على العبارات التالية :



- سهل سيبيريا يمثلها على الخريطة الرقم (٦) .
- المحيط الاطلنطي يمثلها على الخريطة الرقم (٢) .
- قارة استراليا يمثلها على الخريطة الرقم (١) .
- هضبة البرازيل يمثلها على الخريطة الرقم (٣) .
- خط الاستواء يمثلها على الخريطة الرقم (٤) .
- جبال الروكي يمثلها على الخريطة الرقم (٥) .

(هـ) صحح ما تحته خط في العبارات التالية ، بكتابة الإجابة الصحيحة في مكانها المناسب حسب الجدول :

م	العبارة	التصويب
١	موقع الدولة بالنسبة لخطوط الطول ودوائر العرض يسمى الموقع النسبي	الخطي
٢	وحدة قياس الصوت تسمى الكيلو جرام .	الديسيبل
٣	أسست الناشطة الكينية وانجاري ماثي حركة التنمية المستدامة.	الحزام الأخضر
٤	العام الذي عُقد فيه المؤتمر الدولي للأرض في البرازيل هو ١٩٧٠ م .	١٩٩٢
٥	أفضل مناطق الاستقرار البشري هي الهضاب.	السهول
٦	العلاقات السياسية هي جوهر العلاقات المحلية.	الدولية

السؤال الثاني مقالي ويتكون من (أ - ب - ج)

(أ) فرق بين كل من : (أربع درجات)

أسباب الاحتباس الحراري الطبيعية (البشرية)	أسباب الاحتباس الحراري الطبيعية
حر ٨٠	حر ٨٠
.....
.....
.....

(ب) عدد اثنين لكل مما يلي : (ثمان درجات)

١- مميزات البيئة البحرية .

٢٠٥

الحفاظ على التوازن البيئي

توفير التروات المعدنية والنباتية والحيوية

٢- مظاهر ندرة المياه في العالم ..

عدم الحصول على مياه شايحة للشرب * رفوف المياه الجوفية
استعمال الأسمدة والمبيدات الحشرية * وجود هراعات بين الدول مع المياه

٣- مميزات التجارة الدولية .

٧٧

رفع المستوى التنموي

استغلال الموارد العالمية

٤- دور دولة الكويت في الميدان الثقافي .

تنظيمها للمعارض و مهرجانات ثقافية

رعايتها للمؤسسات الثقافية

(ج) عرف المفاهيم والمصطلحات التالية : (ثلاث درجات)

م	المفهوم أو المصطلح	التعريف
١	البيئة الطبيعية	كل ما يحيط بالإنسان من مكونات حية وغير حية ليس للإنسان دخل في وجودها
٢	استئناس الحيوانات	الاعتناء بالحيوانات الأليفة وتربيتها
٣	اليونسكو	منظمة الأمم المتحدة للتربية والعلوم والثقافة

السؤال الثالث مقالي ويتكون من (أ - ب - ج)

(أ) اقرأ الفقرة التالية ، ثم اجب عما يليها من أسئلة: (خمس درجات)

تعاني دولة الكويت من التصحر في فترات فصل الصيف والذي نتج عنه عدة مظاهر كانتشار وزحف الكثبان الرملية وتدهور وزوال الغطاء النباتي الطبيعي ، وذلك بسبب الظروف المناخية القاسية وموقع دولة الكويت الجغرافي وعدم انتظام معدل هطول الامطار .

١- عرف ما تحته خط . (درجة) تناقص في قدرة الاحتجاج البيولوجي للأرض
او تدهور خربة الكراهن اعزجة .

٢- استنتج من الفقرة السابقة :
أ- مظاهر التصحر . (يكتفى بنقطتين ، درجتين)

ب - الأسباب الطبيعية للتصحر في دولة الكويت . (يكتفى بنقطتين ، درجتين)

طرق معالجة قاسية / موقع دولة الكويت / عدم انتظام

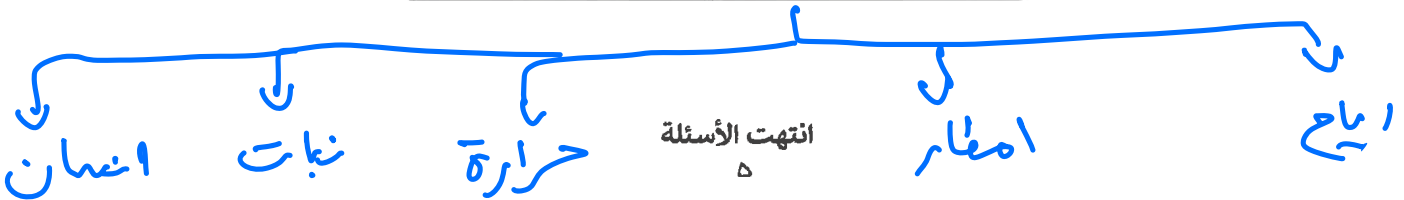
معدل هطول

(ب) قارن بين كل من : (ست درجات)

أوجه المقارنة	التلوث الهوائي	تلوث التربة
المصادر	غازات مزيلات رطوبة المركبات	مبيدات / حراثة / قطع الكامات
الاضرار	نزلات الربو والتهاب الحنجرة	تآكل التربة انخفاض بعض النباتات والحيوانات

(ج) ارسم مخططاً سهمياً للعوامل المؤثرة في التضاريس (يكتفى بثلاث نقاط مع رسم المخطط السهمي ، أربع درجات)

العوامل المؤثرة في التضاريس :



السؤال الأول الموضوعي يتكون من (أ - ب - ج - د - هـ) : (٣٠ درجة لكل نقطة درجة واحدة)

(أ) ظلل الخيار الصحيح من بين الخيارات التي تلي كل عبارة :

١- الموقع المكاني لدولة الكويت بالنسبة لقارة آسيا في الجهة : ص ٢٠

الشمالية الشرقية	الشمالية الغربية	الجنوبية الشرقية	الجنوبية الغربية
------------------	------------------	------------------	------------------

٢- بيئة حضارية يمتلك فيها الانسان قدرات علمية وتكنولوجية كبيرة تمكنه من استغلال مواردها : ص ٤٤

متقدمة	متوسطة	متذبذبة	نامية
--------	--------	---------	-------

٣- العام الذي تعرضت فيه الآبار النفطية عند تحرير دولة الكويت لعمليات التفجير : ص ٦٣

١٩٩٠م	١٩٩١م	١٩٩٢م	١٩٩٣م
-------	-------	-------	-------


٤- شعار منظمة الأغذية والزراعة التابعة للأمم المتحدة : ص ٦٨



٥- أكبر الدول المانحة للدول النامية في العالم : ص ١٠٤

الصين	كوريا	ماليزيا	اليابان
-------	-------	---------	---------

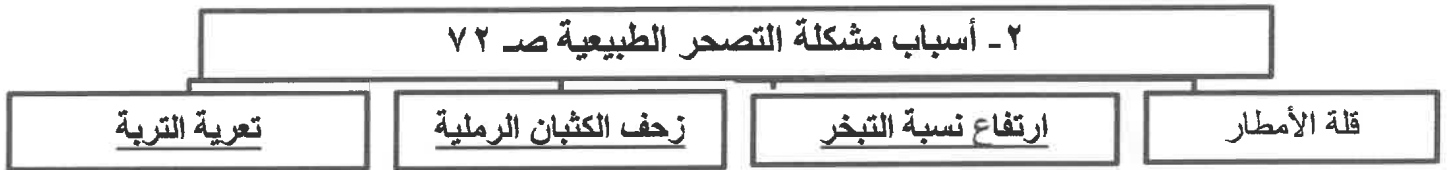
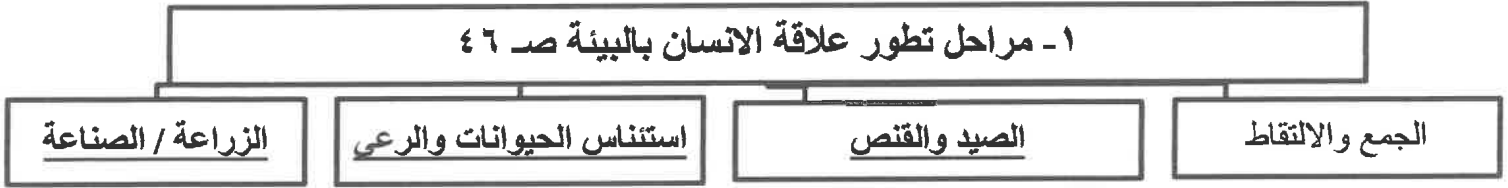
٦- الدائرة البيانية المقابلة تمثل نسبة استخدام أحد مصادر المياه العذبة المنتجة في دول مجلس التعاون من جملة المياه : ص ٧٨



التحلية	الصرف الصحي
السدود	الجوفية

تابع : السؤال الأول :

(ب) اكمل المخططات السهمية التالية :



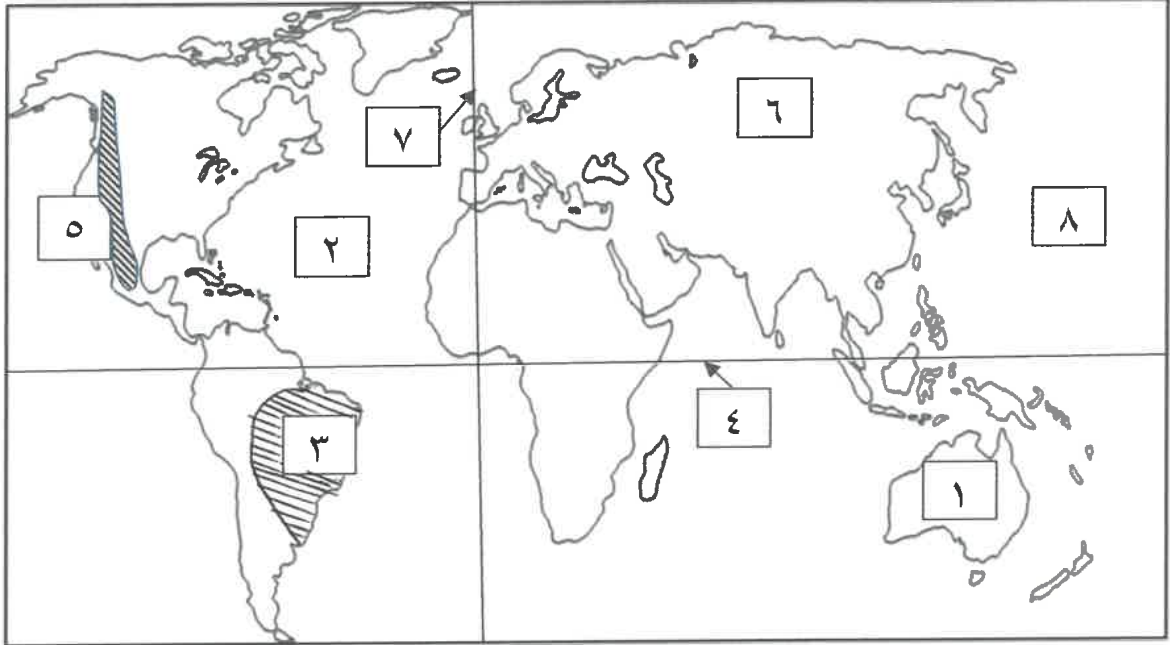
(ج) صنف المكونات التالية حسب النظام الأيكولوجي التابعة له بالجدول التالي :

الانسان - الغازات - البكتيريا - الحيوان - الفطريات - الصخور ص ٥٠

العناصر غير الحية	العناصر الحية المستهلكة	العناصر الحية المحللة (المفككة)
- الغازات - الصخور	- الانسان - الحيوان	- البكتيريا - الفطريات

تابع : السؤال الأول :

(د) أمامك خريطة العالم الصماء ، اكتب الأرقام الدالة على العبارات التالية :



- سهول سيبيريا يمثلها على الخريطة الرقم (٦) . ص ٢٥
- المحيط الاطلنطي يمثلها على الخريطة الرقم (٢) . ص ٢٠
- قارة استراليا يمثلها على الخريطة الرقم (١) . ص ٢٠
- هضبة البرازيل يمثلها على الخريطة الرقم (٣) . ص ٢٥
- خط الاستواء يمثلها على الخريطة الرقم (٤) . ص ١٩
- جبال الروكي يمثلها على الخريطة الرقم (٥) . ص ٢٥

(هـ) صحح ما تحته خط في العبارات التالية ، بكتابة الإجابة الصحيحة في مكانها المناسب حسب الجدول :

م	العبارة	التصويب
١	موقع الدولة بالنسبة لخطوط الطول ودوائر العرض يسمى <u>الموقع النسبي</u>	<u>الفلكي ص ١٨</u>
٢	وحدة قياس الصوت تسمى <u>الكيلو جرام</u> .	<u>الديسيبل ص ٦٩</u>
٣	أسست الناشطة الكينية وانجاري ماثاي حركة <u>التنمية المستدامة</u> .	<u>الحزام الأخضر ص ٥٣</u>
٤	العام الذي عُقد فيه المؤتمر الدولي للأرض في البرازيل هو ١٩٧٠ م .	<u>١٩٩٢ ص ٨١</u>
٥	أفضل مناطق الاستقرار البشري هي <u>الهضاب</u> .	<u>السهول ص ٢٤</u>
٦	العلاقات السياسية هي جوهر <u>العلاقات المحلية</u> .	<u>الدولية ص ٩٤</u>

السؤال الثاني مقالتي ويتكون من (أ - ب - ج)

(أ) فرق بين كل من : (أربع درجات)

أسباب الاحتباس الحراري غير الطبيعية (البشرية) ص ٨٠	أسباب الاحتباس الحراري الطبيعية ص ٨٠
* إزالة الغابات بمساحات كبيرة . * استعمال الوقود الأحفوري (نفط ، فحم ، غاز) ساهم في تركيز غاز ثاني أكسيد الكربون في الجو ، ونجم عنه زيادة درجة حرارة الجو . (يكتفى بنقطتين)	* التغيرات التي تحدث لمدار الأرض حول الشمس وما ينتج عنها من تغير في كمية الإشعاع الشمسي الذي يصل إلى الأرض . * الانفجارات البركانية . * التغير في نسب مكونات الغلاف الجوي . (يكتفى بنقطتين)

(ب) عدد اثنين لكل مما يلي : (ثمان درجات)

- ١- مميزات البيئة البحرية . (يكتفى بنقطتين) ص ٣٠
- * الحفاظ على التوازن البيئي للكرة الأرضية .
 - * توفير الثروات المعدنية والنباتية والسلمية المختلفة للإنسان .
 - * توفير طرق المواصلات ومجال للترفيه والسياحة .

٢- مظاهر ندرة المياه في العالم .. (يكتفى بنقطتين) ص ٧٧

- * عدم الحصول على المياه الصالحة للشرب . * نضوب المياه الجوفية في كثير من بلدان العالم .
- * عدم كفاية الحصول على مياه الصرف الصحي . * انتقال الامراض عن طريق المياه الجارية .
- * وجود صراعات بين الدول على المياه .

٣- مميزات التجارة الدولية . (يكتفى بنقطتين) ص ٩٩

- * المساهمة في دعم النمو الاقتصادي . * استغلال الموارد العالمية بشكل أفضل .
- * تساعد على تعزيز العلاقات بين الدول . * إشباع رغبات المستهلكين نظراً لتنوع الخدمات والسلع .
- * مؤشر قوي على زيادة القدرة الإنتاجية للدولة وقدرتها على التنافس في الاسواق العالمية .
- * توافر فرص عمل .

٤- دور دولة الكويت في الميدان الثقافي . (يكتفى بنقطتين) ص ١٠٦

- * تنظيمها للمعارض والمهرجانات والفعاليات الثقافية .
- * رعايتها للمؤسسات الثقافية في الدول العربية .
- * اسهام جمعيات النفع العام الكويتية في تطوير المشروعات وتنمية في مجال التعليم والصحة .

(ج) عرف المفاهيم والمصطلحات التالية : (ثلاث درجات)

م	المفهوم أو المصطلح	التعريف
١	البيئة الطبيعية	كل ما يحيط بالإنسان من مكونات حية وغير حية ليس للإنسان أي دخل في وجودها وتتمثل في بنية الأرض والتضاريس والمناخ والنبات الطبيعي والحيوانات ص ١٥
٢	استئناس الحيوانات	الاعتناء بالحيوانات الداجنة وتوليدها ، بما في ذلك الأبقار والأحصنة والدجاج والماعز أو أي حيوان آخر يستخدم كمصدر للطعام أو الموارد ص ٤٦
٣	اليونسكو	منظمة الأمم المتحدة للتربية والعلوم والثقافة ، احدى أهم المنظمات الدولية ص ١٠٦

السؤال الثالث مقالتي ويتكون من (أ - ب - ج)

(أ) اقرأ الفقرة التالية ، ثم اجب عما يليها من أسئلة: (خمس درجات) صد ٧٢ ، ٧٣

تعاني دولة الكويت من التصحر في فترات فصل الصيف والذي نتج عنه عدة مظاهر كانتشار وزحف الكثبان الرملية وتدهور وزوال الغطاء النباتي الطبيعي ، وذلك بسبب الظروف المناخية القاسية وموقع دولة الكويت الجغرافي وعدم انتظام معدل هطول الامطار .

١ - عرف ما تحته خط . (درجة)

*التصحر :تناقص في قدرة الإنتاج البيولوجي للأرض أو تدهور خصوبة الأراضي المنتجة بالمعدل الذي يكسبها ظروف تشبه الأحوال المناخية الصحراوية .

٢ - استنتج من الفقرة السابقة :

أ - مظاهر التصحر . (يكتفي بنقطتين ، درجتين)

*تعرية التربة * انتشار وزحف الكثبان الرملية

*تدهور وزوال غطاء النبات الطبيعي * تملح التربة في المناطق الزراعية .

ب - الأسباب الطبيعية للتصحر في دولة الكويت . (يكتفي بنقطتين ، درجتين)

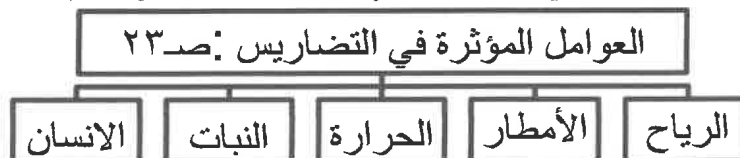
* الظروف المناخية القاسية والموقع الجغرافي . * فقر البيئة من حيث نوعية التربة وندرة المياه السطحية والجوفية والجفاف .

* عدم انتظام معدل هطول الامطار .

(ب) قارن بين كل من : (ست درجات)

أوجه المقارنة	التلوث الهوائي صد ٦٣	تلوث التربة صد ٦٧
المصادر	* الغارات المنبعثة من وسائل المواصلات البرية والجوية والبحرية ومولدات الطاقة . * ذرات الرماد والأترية . * حرق نفايات المنشآت المنزلية والصناعية . (يكتفي بنقطة)	*مصادر ميكانيكية : مثل الحراثة ، قطع الأشجار ، حفر المناجم الرعي الجائر ، التعرية الريحية أو المائية . * مصادر الحيوية : دخول مسبب مرضي أو آفات زراعية . *مصادر كيميائية : استخدام المبيدات الحشرية والأسمدة الكيميائية على المناطق الزراعية (يكتفي بنقطة)
الاضرار	*التأثير على عملية التنفس لدى الانسان والكاننات الحية . * نشر كثير من الأمراض . * الشعور بالإرهاق والتعب وعدم القدرة على بذل مجهود كبير . (يكتفي بنقطتين)	* قلة الإنتاج الزراعي الذي يحتاجه الإنسان بسبب اعتماد النباتات على التربة * انقراض بعض النباتات والحيوانات بسبب تلوث التربة . * ازدياد الطفيليات والبكتيريا ومسببات الأمراض للإنسان بسبب تلوث المحاصيل الزراعية . * تلوث المياه الجوفية ومياه البحار التي يعتمد عليها الإنسان في الشرب . (يكتفي بنقطتين)

(ج) ارسم مخططاً سهماً للعوامل المؤثرة في التضرريس (يكتفي بثلاث نقاط مع رسم المخطط السهمي ، أربع درجات)



انتهت الأسئلة



معهد سمارة مايند
SMART MIND INSTITUTE



يمكنكم الحصول على المذكرات محلولة
امسح الرمز لتصلكم كاملة إلى البيت

من نحن

مجموعة سمارة مايند التعليمية تفتخر بكونها أول مجموعة تعليمية من نوعها في الكويت بإدارة معلمين شباب كويتيين، وبفريق عمل تم اختياره بعناية من الكفاءات الكويتية وغير الكويتية (الأشقاء العرب)، وتشجع أبناء الوطن على أخذ دورهم والمساهمة بنهضة الكويت وارتقاء أبنائنا وبناتنا إيماناً بأن لا نهضة إلا بالعلم ولا رقي إلا بالتحصيل العلمي ونشر الوعي والثقافة.